

نام و نام خانوادگی :	تاریخ :
آزمون :	آموزشگاه :
پایه :	شعبه :

۱- عدد مفلوط زیر را روی محور نشان دهید.

$$3 \frac{3}{4} \longrightarrow$$


۲- حاصل عبارت های زیر را به دست آورید و در صورت امکان ساده کنید.

الف) $4 \frac{1}{5} + 2 \frac{2}{3} =$

ب) $2 \frac{2}{3} - 2 =$

ج) $\frac{2}{7} \div 4 =$

د) $\frac{5}{9} \times \frac{18}{25} =$



۳- پاسخ تقسیم زیر را با رسم شکل نشان دهید.

$$3 \div \frac{2}{3} =$$



۴- $\frac{3}{5}$ دانش آموزان مدرسه ی ۴۵۰ نفری به اردو رفته اند. حساب کنید چند نفر از این دانش آموزان به اردو رفته اند؟



۵- ضرب زیر را انجام داده و پاسخ آن را ساده کنید.

$$2\frac{2}{7} \times 2\frac{5}{8} =$$

۶- عبارت های زیر را با هم مقایسه کرده و علامت $< = >$ بگذارید.





الف) $5\frac{1}{2} \square \frac{4}{5}$

ب) $4\frac{1}{4} \square 4\frac{3}{4}$

ج) $3\frac{1}{2} \square \frac{7}{2}$

د) $\frac{3}{6} \square \frac{3}{4}$



	توصیف عملکرد	ارزشیابی معلم		
نیازمند به تلاش بیشتر 	قبول 	فوب 	فیلی فوب 	نظر نهایی
نظر ولی دانش آموز				



اولین وب سایت تخصصی دوره ابتدایی در ایران

www.nokhbeganac.ir

