


نام و نام خانوادگی :	تاریخ :
آزمون :	آموزشگاه :
پایه :	شعبه :

۱- برای کدام شکل نمی توان خط تقارن کشید؟



۲- کدام یک از شکل های زیر یک خط تقارن و کدام یک بیش از یک خط تقارن دارند؟ آنها را رسم کنید.

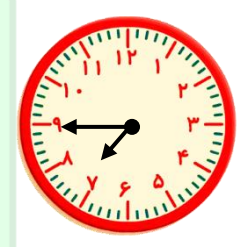


۳- ساعت های زیر را بفوانید و سپس بنویسید اگر ۱۰ دقیقه از هر ساعت بگذرد، ساعت جدید چگونه خوانده می شود؟



ساعت الان :


۱۰ دقیقه بعد :



ساعت الان :





۱۰ دقیقه بعد :

۴- آرش ساعت ۳:۰۰ : ۶ دقیقه از خواب بیدار می شود و باید ۱ ساعت دیگر در مدرسه باشد. روی ساعت نشان دهید که وقتی به مدرسه می رسد، ساعت چند است؟



۵- الگوی زیر را ادامه دهید.



		توصیف عملکرد		ارزشیابی معلم
نیازمند به تلاش بیشتر 	قابل قبول 	خوب 	خیلی خوب 	نظر نهایی
				نظر ولی دانش آموز

آکادمی
نخبگان



اولین وب سایت تخصصی دوره ابتدایی در ایران

www.nokhbeganac.ir

