

نام و نام خانوادگی :

تاریخ :

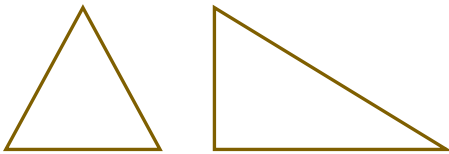
آزمون :

آموزشگاه :

پایه :

شعبه :


۱- شباهت و تفاوت این دو شکل مثلث را بنویسید.



..... : شباهت


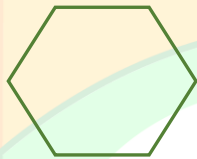
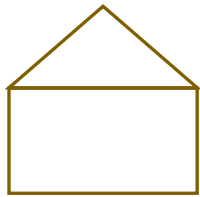
..... : تفاوت

۲- الگوهای زیر را ادامه دهید.

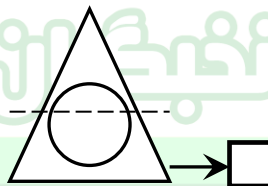
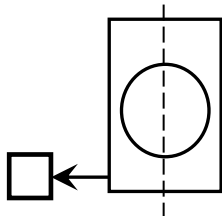


۱ - ۴ - ۸ - ۱۳ - - - -

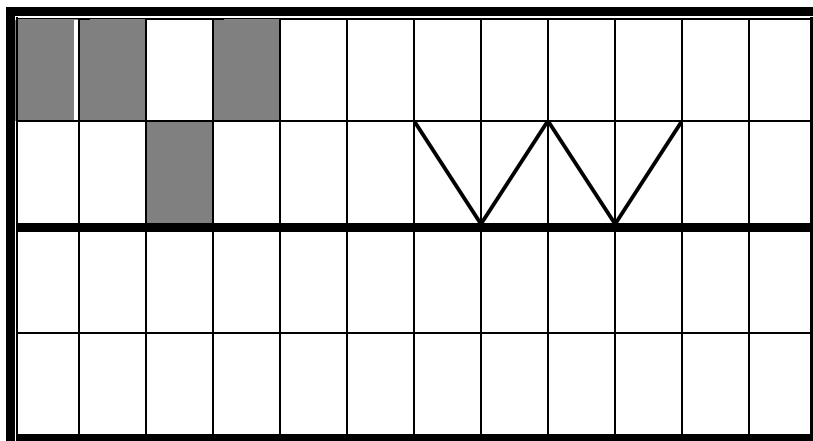
۳- برای هر کدام از شکل های زیر یک فط تقارن رسم کنید.



۴- به نظر شما فط تقارن کدام شکل درست است؟



۵- با توجه به فط تقارن نیمه ی دیگر شکل را رسم کنید.



۶- عقربه ساعت های زیر را بکشید.



ساعت ۳ و نیم



ساعت یک ربع مانده



ساعت ۷ و ربع

				توصیف عملکرد	ارزشیابی معلم
نیازمند به تلاش بیشتر	قابل قبول	خوب	خیلی خوب	نظر نهایی	
					نظر ولی دانش آموز

آکادمی
نخبگان



اولین وب سایت تخصصی دوره ابتدایی در ایران

www.nokhbeganac.ir

