

تاریخ :

نام و نام خانوادگی :

آموزشگاه :

آزمون :

شعبه :

پایه :

۱- جواب جمع و تفریق های زیر را به عبارت آن وصل کنید.

۶۰ - ۲۰ = ●      ● ۹۰

۴۰ + ۴۰ = ●      ● ۷۰

۹۰ - ۲۰ = ●      ● ۴۰

۸۰ + ۱۰ = ●      ● ۱۰

۲- عمید ۵ سکه ۵۰ تومانی و مهید ۳ سکه ۵۰ تومانی دارند. آنها روی هم چند سکه دارند؟ (با استفاده از رسم شکل)



۳- روی ساعت زیر، زمان فواسته شده را نشان دهید.

ساعت بین ۳ و ۴



۴- جدول های زیر را کامل کنید.

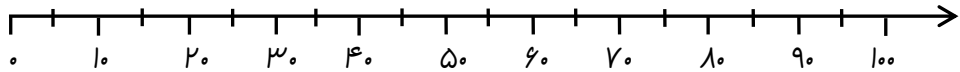
-	۳	۵	۷
۱۰			
۱۱			





+	۵	۶	۷
۸			
۹			

۵- یک اتوبوس مسافری ۴۳ صندلی دارد. اگر ۳۱ نفر مسافر سوار شوند و بر روی صندلی ها بنشینند، چند صندلی خالی می ماند؟



۶- عددهای ۱۶ و ۵۴ و ۶۹ و ۳۱ و ۱۷ را روی محور به صورت تقریبی نشان دهید.



	توصیف عملکرد	ارزشیابی معلم		
نیازمند به تلاش بیشتر 	قابل قبول 	فوب 	فیلی فوب 	نظر نهایی
				نظر ولی دانش آموز

آکادمی  
نخبگان



اولین وب سایت تخصصی دوره ابتدایی در ایران

[www.nokhbeganac.ir](http://www.nokhbeganac.ir)

