

نام و نام خانوادگی :	تاریخ :
آزمون :	آموزشگاه :
پایه :	شعبه :

۱- همه عددهای دو رقمی را بنویسید که رقم های زیر را داشته باشند.

یکی

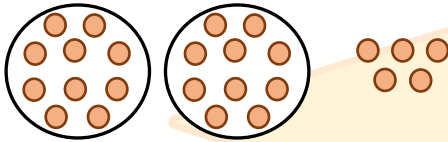
ده تایی

..... - - -

۴ و ۲

۷ و ۵

۲- حمید ۲۵ تا مراد و مهید ۳۲ تا خودکار دارند. آن ها روی هم چند مراد و خودکار دارند؟ (به کمک شکل حل کنید.)



$$\begin{array}{r} 25 \\ + 32 \\ \hline \dots\dots \\ + \dots\dots \\ \hline \dots\dots \end{array}$$

۳- زمان ساعت های زیر را مشخص کنید.





ساعت ۹ و ۵۰ دقیقه




ساعت و دقیقه

۴- تفریق زیر را به کمک شکل انجام دهید.



$$\begin{array}{r} \dots\dots \\ - 13 \\ \hline \dots\dots \\ - \dots\dots \\ \hline \dots\dots \end{array}$$

۵- اعداد زیر را به صورت تقریبی بنویسید.



				توصیف عملکرد	ارزشیابی معلم
نیازمند به تلاش بیشتر	قابل قبول	فوب	فیلی فوب	نظر نهایی	
					نظر ولی دانش آموز

آکادمی
نخبگان



اولین وب سایت تخصصی دوره ابتدایی در ایران

www.nokhbeganac.ir

