

تاریخ :

نام و نام خانوادگی :


آموزشگاه :






آزمون :

شعبه :

پایه :

۱- به این مزرعه خوب نگاه کرده و تعداد حیوانات را بشمارید. سپس تعداد آنها را در جدول زیر، با چوب فط و عدد بنویسید.



تعداد	چوب فط	حیوان
		
		
		
		
		

۲- هر یک از عبارات های زیر را به شکل مناسب آن وصل کنید.



$3 < 5$








$4 = 4$



$3 > 2$













۳- اعداد دو رقمی زیر را به ترتیب از بزرگ به کوچک بنویسید.

۵۷ و ۲۹ و ۹۱ و ۱۷ و ۱۰



۴- در یک ظرف ۱۷ میوه وجود دارد. ۵ تا از آنها فیار و ۶ تا از آنها سیب است و بقیه ی میوه ها موز هستند. با رسم شکل های ساده، تعداد موزها را نشان دهید.

۵- الگوی تصویری درون جدول را کامل کنید.

۶- حاصل جمع های زیر را به دست آورید.

$$۲۰ + ۱۰ + ۵ + ۴۰ = \dots\dots$$

$$۱۰ + ۱۰ + ۵ + ۳۰ + ۵ = \dots\dots$$

				توصیف عملکرد	ارزشیابی معلم
نیازمند به تلاش بیشتر	قابل قبول	خوب	خیلی خوب	نظر نهایی	
					نظر ولی دانش آموز



اولین وب سایت تخصصی دوره ابتدایی در ایران

[www.nokhbeganac.ir](http://www.nokhbeganac.ir)

