

تاریخ :


نام و نام خانوادگی :

آموزشگاه :

آزمون :

شعبه :

پایه :



۱- با توجه به شکل تعداد پرنده ها و سیب های روی درخت را بنویسید.

پرنده :

سیب :

۲- در جای خالی علامت مناسب < = > بگذارید.


۱۲ ۶

۲+۶ ۱-۸

۱۵ ۱۷

۴ ۱-۵


۳- از گل ها، دسته های ده تایی درست کرده و جدول زیر را کامل کنید.



ده تایی

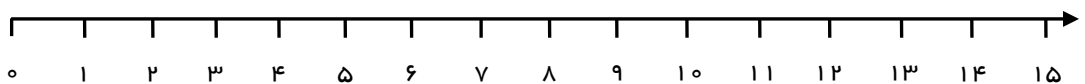
یکی

۴- با کارت های ۵ و ۲ عدد های دو رقمی بسازید.




۵- جواب عبارت زیر را به کمک محور پیدا کنید.

۳-۶+۸ =







۶- الگوی عددی زیر را کامل کنید.



۷- نوشتن عددها را ادامه دهید.

سی و چهار - سی و پنج - - سی و هشت - - پهل

	توصیف عملکرد	ارزشیابی معلم		
نیازمند به تلاش بیشتر 	قابل قبول 	فوب 	خیلی فوب 	نظر نهایی
				نظر ولی دانش آموز

آکادمی
نخبگان



اولین وب سایت تخصصی دوره ابتدایی در ایران

www.nokhbeگان.ac.ir

