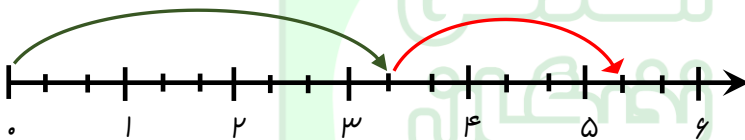
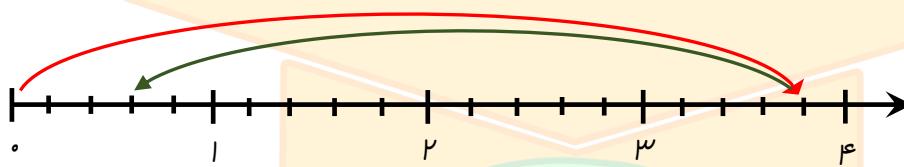




۱- کشاورزی سه قطعه زمین کشاورزی یکسان دارد. او $\frac{5}{16}$ زمین هایش را ذرت و $\frac{5}{3}$ آن ها را گندم کاشته است. این کشاورز از کدام نوع بیشتر کاشته است؟



۲- جمع یا تفریق مربوط به هر یک از محورهای زیر را بنویسید.



۳- علی و برادرش هر کدام ۴ توپی را به هوا پرتاب می کنند. توپ علی $\frac{2}{5}$ متر و توپ برادرش ۲ متر بالا می رود. توپ علی چند متر بیشتر از توپ برادرش بالا رفته است؟








۴- امیر و مهسن از کتابخانه کتابی را به امانت گرفته اند. امیر $\frac{3}{5}$ کتاب خود را مطالعه کرده و مهسن $\frac{2}{7}$ کتابش را مطالعه کرده است. اگر کتاب هر کدام از آن ها ۸۰ صفحه باشد، کدام یک بیشتر مطالعه کرده اند؟



۵- چهارتا از کسرهای زیر مساوی اند و یکی از آن ها با بقیه مساوی نیست، آن را پیدا کنید.

$$\frac{4}{28}, \frac{25}{16}, \frac{3}{21}, \frac{13}{91}, \frac{9}{63}$$

	توصیف عملکرد	ارزشیابی معلم
نیازمند به تلاش بیشتر 	قابل قبول 	فیلی خوب 
	فوب 	فیلی خوب 
	نظر نهایی	نظر ولی دانش آموز



اولین وب سایت تخصصی دوره ابتدایی در ایران

www.nokhbeganac.ir

